

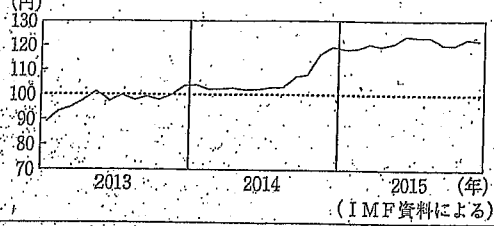
A

1ドル = 100円 (100) = 3
= 150円 (100) (50) = 200

次の資料1と資料2をもとに、為替相場の推移とアメリカからの訪日旅行者数の推移にはどのような関係があるか、円高、円安を明らかにして、簡単に書きなさい。

円安 = 円の価値が下がる

資料1 1ドルに対する円の為替相場の推移



資料2 アメリカからの訪日旅行者数の推移

	訪日旅行者数(人)
2013年	526,768
2014年	611,075
2015年	749,393

(日本政府観光局資料による)

円安が原因として、アメリカからの訪日旅行者が増えている。

B

右の資料のように、多くのホテルが曜日によって異なる宿泊料金を設定する理由を、「ホテルの部屋の数」「ホテルに泊まろうとする人の数」という語句を用いて、簡単に書きなさい。

資料 あるホテルの宿泊料金表

	曜日	月-木	金	土	日
宿泊料金(円)	6,980	8,980	11,980	7,980	

注 おとな一人の宿泊料金(1泊2食)

ホテルの部屋数は一定であるのにに対し、ホテルに泊まろうとする人の数が異なると、

需要と供給
均衡価格
(市場)

衆議院の
大政党内閣
小選挙区比例
代表並立制

比例代表制で多党制になりやすい理由を、次の資料1、資料2を参考にして、簡単に書きなさい。

資料1 比例代表制における各政党の獲得議席数と得票率

	A党	B党	C党	D党	E党	F党	G党	H党	その他	合計
獲得議席数(議席数)	55	31	40	23	16	6	6	2	1	180
得票率(%)	25.5	17.0	21.4	11.8	9.4	6.3	5.5	2.3	0.8	100

資料2 小選挙区制における各政党の獲得議席数と得票率

	A党	B党	C党	D党	E党	F党	G党	H党	その他	合計
獲得議席数(議席数)	231	29	15	8	5	2	0	0	5	295
得票率(%)	44.0	20.4	10.8	7.0	4.3	5.1	2.9	2.8	2.7	100

注 獲得議席数の割合と得票率は必ずしも一致しない。

比例代表制では、小選挙区制と比べて得票数の低い政党でも議席を得やすいから。

票 455
① 289
② 178

議院内閣制: 内閣は国会の信任に依存し、国会に対し平帯責任を負う

D

日本国憲法では、衆議院で内閣不信任の決議が可決された場合、内閣は10日以内にならなければならないと定めているか。「解散」「総辞職」という語句を用いて書きなさい。

内閣は衆議院を解散するか、総辞職しなければならない。

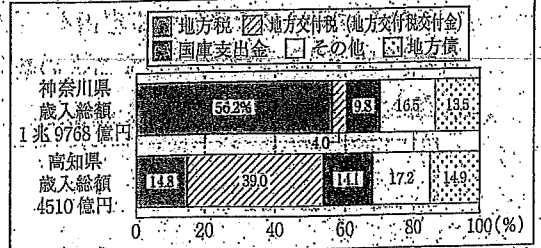
10日
解散
40日
内閣総辞職
選挙 30日
特別国会

地方自治

E

右の資料中の地方交付税(地方交付税交付金)は、国から地方公共団体に配分されるものであり、歳入総額に占める割合は、高知県が神奈川県より高い。この地方交付税(地方交付税交付金)は、どのような目的で配分されているのか、「地方税」という語句を用いて、簡単に書きなさい。

資料 神奈川県と高知県の歳入総額とその項目別割合



(「データでみる県勢2017」による)

地方公共団体の財源である地方税の収入の格差を是正するため。

F

最高裁判所が「憲法の番人」と呼ばれる理由は何か。最高裁判所が持つ権限に着目して、「判断」という語句を用いて書きなさい。

最高裁判所は違憲審査の最終的かつ判断を有する権限を持っているから。

国民審査 / 三審制 / 裁判員制度 等?

暖流の対馬海流上空を
冬の季節風が吹きぬいた空気
が雨や雪を降らせるから

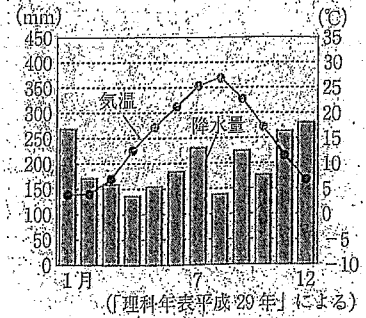
地元企業が技術、労働力をもとに製品を作り
発展した産業。

A 日本海側の気候

北陸地方で、輪島塗の製造などの地場産業が農家の副業として行われるようになった理由を、右のグラフから読み取れる北陸地方の冬の自然環境と関連付けて書きなさい。

冬の積雪量が多いため、その間は農作業がとまらな
から。

グラフ

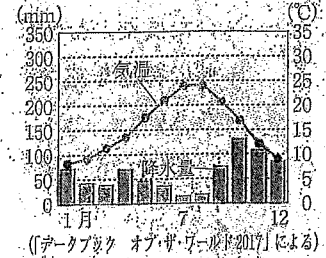


B 地中海式農業 ・ぶどう、オリーブ、トマト

右のグラフは、地中海性気候に属するニース(フランス)の気温と降水量について示したものである。グラフから読み取れる地中海性気候の特色を、夏と冬の降水量に着目して書きなさい。

降水量が夏に少なく冬に多いこと。

グラフ



C 西岸海洋性気候

ヨーロッパの大西洋沿岸地域や北海沿岸地域が、緯度の高いところにあるわりには温暖な気候である理由を書きなさい。

暖流の北大西洋海流と偏西風の影響を受けるため。

排他的経済水域

EU(27ヶ国) ... 政治的、経済的協力関係をもつ連合体

外交

榎田梅子
北里柴三郎
淡沢栄一

1858 日米修好通商条約 ハリス・井伊直弼

榎玉操 天論

1871

明治政府が岩倉使節団を欧米に派遣した目的を、「改正」という語句を用いて、簡単に書きなさい。

不平等条約を改正すること。

治外法権を認め 1894 陸奥宗光
関税自主権の回復 1911 小村寿太郎

欧化政策 井上馨 鹿鳴館

大正時代

政治・生活

1917 シリア出兵

社会主義運動の元勳を恐れた。

B

米騒動がおきた原因の一つは、米価が急激に上昇したことである。当時、米価が急激に上昇した背景を、ロシア革命と関連させて書きなさい。

ロシア革命に対処シリア出兵を見越して商人が米を買い占めたこと。

佐渡金山, 石見銀山, 足尾銅山 → 両替商

2025 → 1925 男子普通選挙法, 治安維持法, ラジオ放送

飛鳥泰良 大室律令

平安鎌倉 荘園, 寝殿造 六波羅探題

室町 守土 日明貿易 利根政名

江戸 明治 参勤交代, 享保の改革, 日露日露

大正 昭和 大正デモクラシー, 日米安全保障条約

1858 日米修好通商条約

1871 岩倉使節団

1883 鹿鳴館 欧化政策, 井上馨

1886 ルマントシ号事件

1894 治外法権の撤廃 [陸奥宗光]

1911 関税自主権の回復 [小村寿太郎]

1917 ロシア革命

1918 シリア出兵 72000人 5000人 凍死
米騒動 寺内正毅 → 原敬

大正デモクラシー

1925 普通選挙法 治安維持法